

PAKIET KURSÓW PODSTAWY WYTRZYMAŁOŚCI MATERIAŁÓW

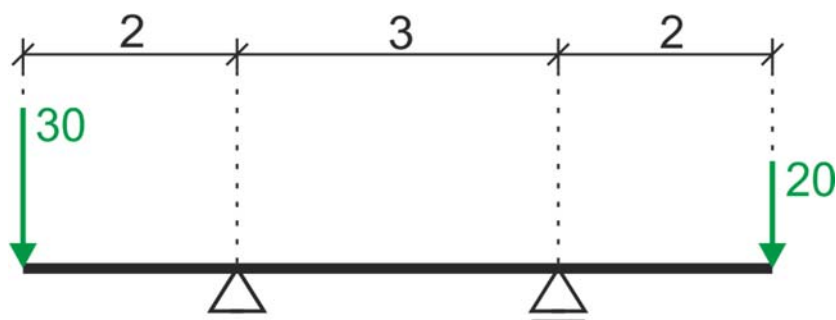


SIŁY WEWNĘTRZNE W BELKACH PROSTYCH

ZADANIA DO SAMODZIELNEGO ROZWIĄZANIA

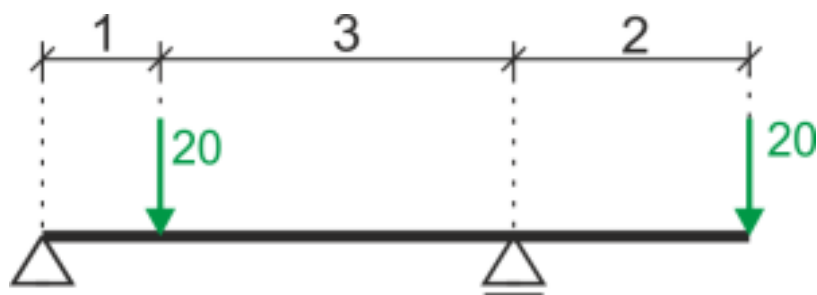
Zadanie 1

Wyznaczyć i narysować wykresy sił wewnętrznych



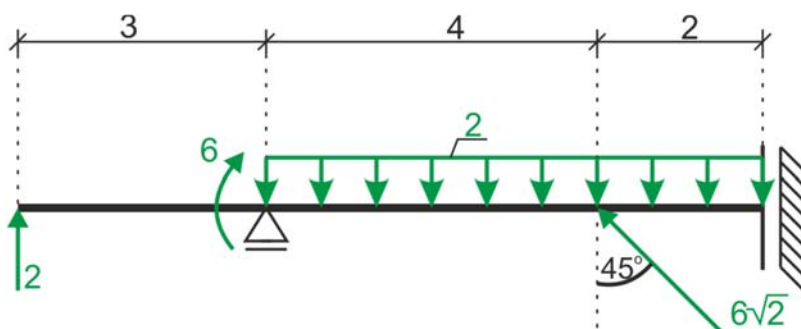
Zadanie 2

Wyznaczyć i narysować wykresy sił wewnętrznych



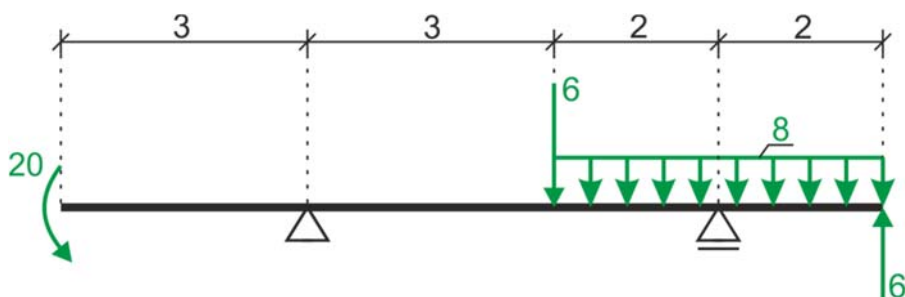
Zadanie 3

Wyznaczyć i narysować wykresy sił wewnętrznych



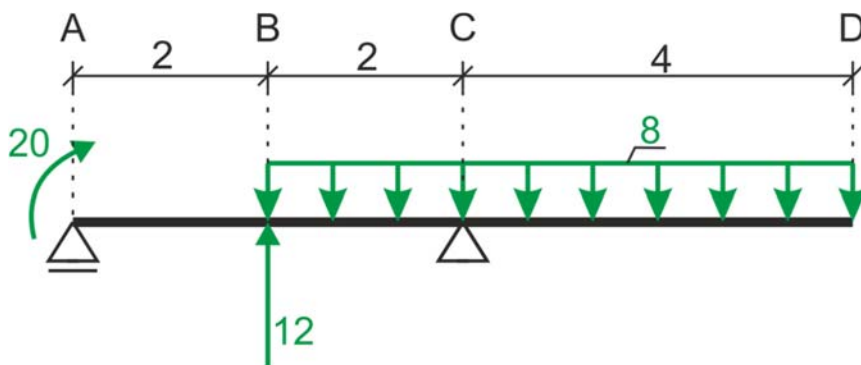
Zadanie 4

Wyznaczyć i narysować wykresy sił wewnętrznych



Zadanie 5

Wyznaczyć i narysować wykresy sił wewnętrznych



Zadanie 6

Wyznaczyć i narysować wykresy sił wewnętrznych

